




# 4. LE ROQUE




1



Le roi blanc est en échec. Peut-il se sauver en faisant le roque? \_\_\_\_\_


2



Les Blancs font le petit-roque. Mets un X où il faut placer le roi et un O où il faut placer la tour.


NOM: \_\_\_\_\_

3



La tour a8 est attaquée. Les noirs peuvent-ils quand même faire le grand roque? \_\_\_\_\_


4



A) Le cavalier est menaçant dans la position des Noirs. Les Noirs peuvent-ils faire le petit roque? \_\_\_\_\_


B) Peuvent-ils faire le grand roque? \_\_\_\_\_

5



Le fou g6 empêche-t-il les Blancs de faire le grand roque? \_\_\_\_\_

6



A) Trait aux Noirs, peuvent-ils faire le petit roque? \_\_\_\_\_

B) Si les Blancs font le grand roque en premier, les Noirs peuvent-ils faire aussi le grand roque? \_\_\_\_\_